

IranArze.ir

@iranarze

@iranarze



مجری آزمون
ایران آزمون



زمان برگزاری آزمون
۳۰ آبان ۱۴۰۴

اصل سوالات آزمون استخدامی

بانک سینا ۱۴۰۴

اصل سوالات آزمون استخدامی بانک سینا برگزار شده ۳۰ آبان ۱۴۰۴ ✓

نسخه رایگان شامل ۸۷ سوال به همراه کلید سوالات در انتهای جزوه ✓

مجری آزمون: ایران آزمون ✓



لینک های مفید آزمون استخدامی بانک سینا

خرید سوالات بانک سینا	سوالات رایگان بانک سینا با پاسخنامه
خرید سوالات ایران آزمون (مجری آزمون)	سوالات رایگان بانک ها با پاسخنامه
خرید سوالات استخدامی ۱۰ سال اخیر	خرید درسنامه بانک سینا
خرید سوالات مصاحبه	خرید درسنامه مصاحبه
فایل اطلاعات آزمون	منابع آزمون
اخبار آزمون	شبکه های اجتماعی ایران عرضه (فایل های رایگان + تخفیفات هفتگی + اخبار)

(برای مشاهده هر بخش روی آن بزنید )

فهرست مطالب

- ❖ فصل اول: سوالات تایپ شده آزمون استخدامی بانک سینا آبان ۱۴۰۴ - صفحه ۴ (۸۷ سوال)
ادبیات فارسی و آیین نگارش - هوش و استعداد تحصیلی (GMAT) - مهارت های هفتگانه کامپیوتر (ICDL) -
مفاهیم پولی، مالی و خدمات بانکی - زبان انگلیسی
- ❖ فصل دوم: عکس دفترچه سوالات آزمون استخدامی بانک سینا آبان ۱۴۰۴ - صفحه ۱۶
- ❖ فصل سوم: کلید سوالات آزمون استخدامی بانک سینا آبان ۱۴۰۴ - صفحه ۲۴



❖ فصل اول: سوالات تایپ شده آزمون استخدامی بانک سینا آبان ۱۴۰۴

◀ ادبیات فارسی و آیین نگارش

۱- معانی کلمات «منحوس - مذموم - مغضوب» به ترتیب کدام است؟

- (۱) بدکار - پیوسته - خشمگین
 (۲) ناپسند - زشتی - خشن
 (۳) نامیمون - زشت - خشم گرفته
 (۴) بدخوی - بهره‌وری - غضب کرده
- ۲- در کدام بیت معنی واژه‌ی مشخص شده، به درستی ذکر شده است؟ (iranarze.ir)

- (۱) بیچارگی و را چو دیدند / در چاره‌گری زبان کشیدند: سکوت کردند
 (۲) دمی آب خوردن پس از بدسگال / به از عمر هفتاد هشتاد سال: بدخلق
 (۳) اگر چه در طلبت هم عنان باد شمالم / به گرد سروخرامان قامتت نرسیدم: همراه
 (۴) هر چه در این دایره بیرون توست / گام سمایت زده در خون توست: سعی و تلاش

۳- معنای چند واژه در مقابل آن نادرست آمده است؟

- (محوطه: صحن)، (نیلی: کبود)، (فتح: گشودن)، (جرس: طبل)، (وادی: سرزمین)
 (۱) صفر (۲) یک (۳) دو (۴) سه

۴- در کدام عبارت «غلط املایی» می‌توان یافت؟

- (۱) پس از گشت و گذار، خسته از نشسته خوب و پاک آن «اسرا» در بستر خویش به خواب رفتم.
 (۲) آن شب ماه با تلالو پر شکوهش از راه رسید و گلهای الماس شکفتند و قندیل زیبای پروین سر زد.
 (۳) گلهای رنگین شعر و الهام در سموم سرد این عقل بی درد پژمرد و صفای اهورایی درونم را پر از خدا کرد.
 (۴) در آن هنگام که بهار حیات علمی و اجتماعی اش فرارسیده بود ناگهان منقلب شد و چشم‌ها را منتظر گذاشت.

۵- در کدام گروه کلمه غلط املایی یافت میشود؟

- (۱) بذله و لطیفه، محفوظ و بهره‌ور
 (۲) جسیم و خوش اندام، مستغرق و مجذوب
 (۳) حشم و خدمتکاران، نمط و طریقه
 (۴) قسیم و صاحب جمال، حیات و ممت

۶- در متن زیر املای کدام واژه نادرست است؟

«چندان که این سخن به سمع او رسید و از خرد و جمال و عقل و صلاح او براندیشید رنجور گشت و شرم داشت که اثر تردد ظاهر گردد و نغز و ابرامی به یکدیگر متصل از خود فرانماید و به تائی او واثق بود که تاخیری به جای آورده باشد و بی مراجعت کاری نگزارده»

- (۱) صلاح (۲) نغز (۳) نگزارده (۴) تائی

۷- کلمات کدامیک از گزینه‌های زیر را نمی‌توان کاهش داد بدون آن که معنای آن عوض شود؟

(۱) مورد استفاده قرار داده است. (۲) مورد ستایش قرار می دهد.

(۳) مورد تصویب قرار داده است. (۴) نشان داده است.

۸- در عبارت «او مثل این که فنرش در رفته باشد دست دراز کرد.» چه آرایه ای به کار رفته است؟

(۱) استعاره (۲) حس آمیزی (۳) کنایه (۴) ایهام

۹- «صاحب گوهر» در عبارت «کافر را غلامی بود مسلمان، «صاحب گوهر» به چه معناست؟

(۱) مطیع و سر به زیر (۲) اصیل و نژاده (۳) قوی و پهلوان (۴) پول دار و ثروتمند

۱۰- مفهوم عبارت زیر یادآور کدام بیت است؟

«از بیم عقرب جرّاره، دموکراسی قرن بیستم، ناچار شده به مار غاشیه حکومت سرهنگ ها پناه ببرد.»

(۱) در خم زلف تو آویخت دل از چاه زخ / اه کز چاه برون آمد و در دام افتاد

(۲) در عشق تو پای کس ندارد جز من / در شوره کسی تخم نکارد جز من

(۳) معنی فرمانروایی نیست جز اجرای حکم / در سرای خویش هر موری سلیمانی کند

(۴) از ما طلب یاس کن ای خواجه نه امید / کاین جنس متاعی است که در کشور ما نیست

۱۱- مفهوم بیت زیر از کدام بیت دریافت می شود؟

«یک دم غریق بهر خدا شو گمان مبر / کز آب هفت بحر به یک موی تر شوی»

(۱) آشنایان ره عشق در این بحر عمیق

(۲) جنبش دریا اگر چه موج خوانندش ولی

(۳) نوح را کشتی شکست از لطمه توفان عشق

(۴) یک قصه بیش نیست غم عشق و وین عجب

۱۲- بیت زیر با همه ابیات تناسب مفهومی دارد به جز:

«دیروز در غربت باغ من بودم و یک چمن داغ / امروز خورشید در دشت آینه دار من و تو»

(۱) آشیان گم کرده گو دانم نمی ماند خزان

(۲) درد بی درمان رسد گاهی به درمان صبر کن

(۳) صبح امیدی که پنهان است در دل های شب

(۴) عمر ما شه نامه، پیر داستان ها روزگار

۱۳- بیت زیر با کدام بیت قرابت مفهومی دارد؟

«عاشقان کشتگان معشوقند / بر نیاید ز کشتگان آواز»

(۱) عشق برداشت ز کوچکدلی از خاک مرا

(۲) به آه و ناله گفتم دل تهی سازم، ندانستم

ورنه ویرانه من قابل تعمیر نبود

که عشق اول زبان زین لشکر خونخوار می گیرد

- (۳) خوش کن به شور عشق دهن تا چو ماهیان در مشروب تو تلخی دریا شود لذیذ
(۴) کار غیور عشق شراکت پذیر نیست دل را به نقد از همه کار جهان برآر

۱۴- مفهوم ضرب المثل "عالم بی عمل زنبور بی عسل است" از کدام بیت دریافت می‌شود؟ ایران‌عرضه‌ا

- (۱) به آبم راند غفلت ورنه این عمر گرامی را که در گفتار کردم صرف در کردار بایستی
(۲) علم اگر قالبی است گر جانی است هر چه دانی تو از نادانی است
(۳) گر کسی را عملی هست و امیدی دارد ما گداییم در این ملک نه بازرگانیم
(۴) حافظ خام طمع شرمی از این قصه بردار عملت چیست که فردوس برین می خواهی

۱۵- مفهوم کلی بیان شده هر بیت در کدام گزینه صحیح است؟

- (۱) به دست آهن تفته کردن خمیر به از دست بر سینه پیش امیر
(۲) دادند دو گوش و یک زبانت، زآغاز یعنی که دو بشتو و یکی بیش مگوی
(۳) از گفته ناکرده و بیهوده چه حاصل کردار نکو کن، که نه سودی ست از گفتار
(۴) آن شاخ که سر بر کشید و میوه نیارد فرجام، به جز سوختنش نیست سزاوار

۱۶- در کدام گزینه غلط نگارشی دیده می‌شود؟

- (۱) انشایی می ساخت و نمره بیست همراه با آفرین و احسن تحویل میگرفت.
(۲) املای واژه هایی چون هزاره ها و سده ها به همین شکل درست است.
(۳) تمام فصل ها و بخش های این کتاب مشمول طرح بودجه بندی کتب هستند.
(۴) اخترشناسی به مطالعه اجرام آسمانی می پردازد و همچنین به تأثیر بر اجرام آسمانی دیگر.

۱۷- در جمله «پلیس آن کشور بار دیگر در یک یورش وسیع و گسترده ای ده ها تن مسلمان را بازداشت کرد.» کلمات همه

گزینه ها به جز کدام گزینه زاید یا تکراری است؟

- (۱) آن (۲) یک (۳) تن (۴) وسیع

۱۸- کدام عبارت نیاز به ویرایش دارد؟

- (۱) گواه صدق ادعای ما، سخن یکی از استادان عقل گرا، درباره دین است.
(۲) به خلاف تصور برخی خوانندگان ملاک ها و معیارهای نقد ادبی بی اعتبار نشده اند.
(۳) انجام دادن فرایض دینی، پاداش معنوی و ترکشان موجب کیفر اخروی خواهد بود.
(۴) عقل گرایی پدیده ای است که عامل عمده آن، ضعف مسیحیت در پاسخ گویی به نیازهای حقوقی بشر بوده است.

هوش و استعداد تحصیلی (GMAT)

۱۹- اگر روابط روبرو بین اعداد برقرار باشد به جای علامت سوال چه عددی باید قرار بگیرد؟

- ۷۴=؟ ۲۴=۷ ۴۸=۱۹ ۳۲=۱۱

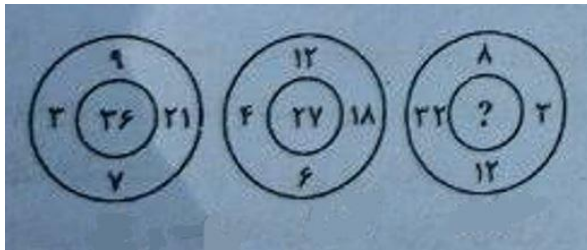
۲۶ (۴)

۲۸ (۳)

۳۲ (۲)

۳۴ (۱)

۲۰- در شکل زیر به جای علامت سوال کدام عدد قرار میگیرد؟



۶۹ (۱)

۴۵ (۲)

۷۲ (۳)

۸۱ (۴)

۲۱- اگر امروز دوشنبه باشد، ۵۹ روز دیگر معادل با چه روزی از هفته خواهد بود؟ (iranarze)

(۱) دوشنبه (۲) سه شنبه (۳) چهارشنبه (۴) پنج شنبه

۲۲- آرش پسر خواهر پدر آراد است. احمد پسر دنیا و دنیا مادر بزرگ آراد است. حمید پدر تینا و پدر بزرگ آرش است. دنیا

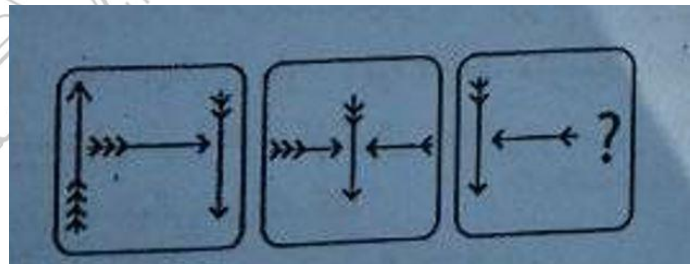
همسر حمید است. آرش چگونه با دنیا مرتبط است؟

(۱) خواهرزاده (۲) برادرزاده (۳) پسر (۴) نوه

۲۳- نسبت CPU و کامپیوتر مانند تمام گزینه های زیر است به جز:


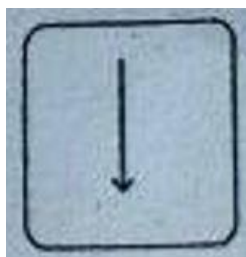
(۱) سرآشپز و آشپزخانه (۲) کارگردان و فیلم (۳) مهماندار و هواپیما (۴) مغز و انسان

۲۴- کدام گزینه به جای علامت سوال قرار بگیرد تا الگوی شکلی زیر کامل گردد؟




(۲)

(۱)



(۴)

(۳)



*** توجه: متن زیر را به دقت بخوانید و با توجه به اطلاعات داده شده به سؤالات ۲۷ تا ۳۲ پاسخ دهید.

یک گروه سه نفره از دانش آموزان باید اشعاری را در کلاس ادبیات بخوانند. هر یک از سه دانش آموز - فرهاد، گرشا و هادی

حداقل یکی از چهار شعر شعرای حافظ، سعدی، مولوی و فردوسی را با شرایط زیر خواهند خواند:

شرط اول) هیچ دانش آموزی هر دو شعر مولوی و فردوسی را نمی خواند.

شرط دوم) هادی شعرهای بیشتری نسبت به گرشا و فرهاد می خواند.

شرط سوم) هر دانش آموزی که شعر سعدی را میخواند، شعر حافظ را نیز می خواند.

شرط چهارم) هر شعری که توسط فرهاد خوانده شود، توسط گرشا نیز خوانده می شود.

۲۵- کدام یک از موارد زیر میتواند فهرستی کامل و دقیق از شعرهایی باشد که دانش آموزان خوانده اند؟

۱) فرهاد: سعدی، حافظ/ گرشا: سعدی، حافظ، مولوی/ هادی: حافظ، مولوی

۲) فرهاد: مولوی/ گرشا: حافظ، سعدی/ هادی: حافظ، سعدی

۳) فرهاد: مولوی/ گرشا: مولوی/ هادی: حافظ، سعدی

۴) فرهاد: حافظ/ گرشا: حافظ/ هادی: سعدی، مولوی

۲۶- کدام یک از موارد زیر باید درست باشد؟

۱) گرشا شعرهای بیشتری نسبت به فرهاد می خواند.

۲) اگر گرشا سعدی را بخواند. فرهاد نیز سعدی را می خواند.

۳) اگر فرهاد سعدی را بخواند، گرشا حافظ را می خواند.

۴) اگر هادی مولوی را بخواند، فرهاد و گرشا آن را نمی خوانند.

۲۷- اگر هادی شعرهای مولوی با فردوسی را نخواند، آنگاه همه موارد زیر می تواند درست باشد، به جز:

۱) فرهاد فردوسی را می خواند. ۲) گرشا مولوی را می خواند.

۳) هر سه دانش آموز حافظ را می خوانند. ۴) دقیقاً دو دانش آموز شعر سعدی را می خوانند.

۲۸- کدام یک از موارد زیر باید درست باشد؟

۱) فرهاد نمی تواند شعر سعدی را بخواند مگر اینکه هادی بخواند.

۲) فرهاد و گرشا همیشه حداقل یک شعری را می خوانند که هادی هم می خواند.

۳) هادی فقط زمانی می تواند شعر فردوسی را بخواند که گرشا آن را نخواند.

۴) شعر فردوسی حداکثر توسط دو دانش آموز خوانده می شود.

۲۹- اگر هر شعر حداقل توسط یک دانش آموز خوانده شود، هر یک از موارد زیر می تواند درست باشد به جز:

۱) حداقل یک شعر توسط هر سه دانش آموز خوانده می شود.

۲) فرهاد دقیقاً همان شعرهایی را می خواند که گرشا می خواند.

۳) گرشا بیشتر از فرهاد شعر می خواند.

۴) شعر سعدی توسط فرهاد یا گرشا خوانده می شود.

۳۰- چند روش مختلف وجود دارد که شعرها به گونه ای تخصیص داده شوند که هر شعر حداقل توسط یک دانش آموز خوانده شود؟

۸ (۴)

۷ (۳)

۶ (۲)

۵ (۱)

*** توجه: برای پاسخگویی به سؤالهای ۳۳ و ۳۴ لازم است موقعیتی را که در هر سؤال مطرح شده، مورد تجزیه و تحلیل قرار دهید و سپس گزینه ای را که فکر میکنید پاسخ مناسب تر و کامل تری برای آن سؤال است انتخاب کنید.

۳۱- "صادرات و واردات تراز تجاری رو به رشد و مطلوب سرمایه گذارها و موجودی بانکها شاخصی برای رفاه ملی نیستند. تا آغاز جنگ جهانی دوم، صادرات انگلیس به طور قابل توجهی بیشتر از آنچه امروز است، بود. با این حال، انگلستان امروز رفاه ملی بیشتری نسبت به هر زمان دیگری دارد زیرا درآمد متوسط انگلیسیها، که به عنوان کارگران مزرعه و کارخانه، کارمندان، پلیسها، مغازه داران کوچک و دستیاران فروشگاه، کارگران خانگی و سایر کارکنان با دستمزد پایین کار میکنند، افزایش یافته است." این متن به بهترین وجه از این گفته پشتیبانی می کند که:

۱) تجارت انگلیس از زمان جنگ جهانی دوم به طور مداوم افزایش یافته است.

۲) اقتصاد یک کشور با افزایش صادرات تقویت می شود.

۳) تراز تجاری یک کشور معیار اصلی تعیین رفاه اقتصادی آن است.

۴) استاندارد اقتصادی یک کشور را می توان به بهترین وجه با درآمد سرانه قضاوت کرد.

۳۲- «مفهوم شانس اخلاقی، دیدگاه سنتی را که معتقد است مسئولیت اخلاقی تنها باید بر اساس عواملی که در کنترل فرد است تعیین شود، به چالش می کشد. شانس اخلاقی زمانی رخ می دهد که جنبه های اخلاقی مهم اعمال یک فرد یا پیامدهای آن به عواملی وابسته باشد که خارج از کنترل او هستند. برای مثال، یک راننده خواب آلود که عابری را به قتل می رساند، معمولاً سخت گیرانه تر از راننده ای قضاوت می شود که با همان میزان خواب آلودگی رانندگی می کند اما بدون حادثه به خانه می رسد. این مسئله پرسش های پیچیده ای درباره عدالت و سازگاری قضاوت های اخلاقی ما مطرح می کند.»

کدام یک از جملات زیر، اگر درست باشد، بیشترین تضعیف را برای این استدلال در پی خواهد داشت؟ {ایران عرضه}

۱) قضاوت های اخلاقی باید عمدتاً در نیت فرد تمرکز کنند.

۲) پیامدهای یک عمل همیشه برای ارزیابی اخلاقی مهم هستند.

۳) افراد باید تنها نسبت به نتایجی که معقولانه میتوانند پیش بینی و کنترل کنند مسئول باشند.

۴) نظام های حقوقی به طور مداوم بین پیامدهای عمدی و غیر عمدی تمایز قائل میشوند.

۳۳- در یک کلاس ۳۰ دانش آموز وجود دارد که ۱۵ نفر آنها پسر و ۱۵ نفر دختر هستند. در امتحان نهایی، ۵ پسر و ۴ دختر نمره ۲۰ گرفتند. اگر یک دانش آموز به طور تصادفی از کلاس انتخاب شود، احتمال انتخاب یک دختر با یک دانش آموز با نمره ۲۰ چقدر است؟

- (۱) $\frac{2}{3}$ (۲) $\frac{3}{10}$ (۳) $\frac{1}{3}$ (۴) $\frac{1}{4}$

۳۴- چهار کشور ایران، اسپانیا، پرتغال و کامرون در یک گروه رقابت های جام جهانی قرار گرفته اند. چند بازی باید انجام شود تا تمام کشورها با یکدیگر یکبار بازی کنند؟

- (۱) ۴ (۲) ۵ (۳) ۶ (۴) ۷

۳۵- در ساحل یک دریا هزینه اجاره یک ساعت بالون تفریحی ۲۰۰ هزار تومان بیشتر از هزینه اجاره یک ساعت قایق است. اگر یک نفر بالون را به مدت ۳ ساعت و قایق را به مدت ۵ ساعت اجاره کند و جمع کل مبلغ پرداختی آن ۲ میلیون تومان باشد، هزینه اجاره یک ساعت بالون چقدر است؟

- (۱) ۳۷۵ هزار تومان (۲) ۱۷۵ هزار تومان (۳) ۲۲۵ هزار تومان (۴) ۳۲۵ هزار تومان

۳۶- عددی از دو رقم تشکیل شده است که مجموع آنها ۱۱ است. اگر ۲۷ به این عدد اضافه شود جای ارقام عوض میشود. آن عدد چیست؟

- (۱) ۳۷ (۲) ۴۷ (۳) ۶۵ (۴) ۸۳

۳۷- اگر تمام اعداد ۱ تا ۱۰۰ را بنویسید چند بار عدد ۳ را می نویسید؟

- (۱) ۱۰ (۲) ۱۱ (۳) ۲۰ (۴) ۲۱

۳۸- یک مخزن مکعبی ۲۷ متر مکعب حجم دارد. طول آن را ۳ برابر می کنیم، عرض آن را ۲ برابر و ارتفاع آن را ۴ برابر، حجم مخزن جدید چند متر مکعب خواهد بود؟

- (۱) ۷۲ (۲) ۲۸۶ (۳) ۶۴۸ (۴) ۸۶۴

مهارت های هفتگانه کامپیوتر (ICDL)

۳۹- برای ارسال رونوشت پست الکترونیک به شخص دیگر به گونه ای که سایر افراد متوجه وجود آن نشوند، آدرس آن در کدام بخش نوشته می شود؟

- (۱) TO (۲) BCC (۳) CC (۴) SEND

۴۰- کدام گزینه فهرستی از سایتهایی که اخیرا مشاهده شده است را نمایش می دهد؟

- (۱) History (۲) Favorites (۳) Forward (۴) bookmark

۴۱- دکمه Start روی کدام نوار قرار دارد؟

- (۱) Scroll Bar (۲) Tool Bar (۳) Task Bar (۴) Status Bar

۴۲- برنامه های در حال اجرا در محیط ویندوز در کدام قسمت نشان داده می شوند؟ (متعلق به سایت ایران عرضه)

Task manager (۲)

System tray Bar (۱)

Start (۴)

Toolbar (۳)

۴۳- از کدام دستور برای ایجاد یادداشت اضافی در سلول استفاده می شود؟

Margin (۴)

handle (۳)

Comment (۲)

Fill (۱)

۴۴- در پنجره Print در بخش Copies عددی که داخل مستطیل Number of copies مشخص می کنیم مبین چه چیزی می باشد؟

(۱) اندازه صفحه چاپی

(۲) تعداد نسخه هایی که از هر صفحه چاپ می شود

(۳) کیفیت چاپ بر حسب dpi

(۴) درصد چاپ نسبت به نرمال

۴۵- در صفحه پیش نمایش Word کاربرد دکمه Margins چیست؟

(۱) بزرگ نمایی صفحه پیش نمایش

(۲) بازگشت به صفحه word

(۳) رفتن صفحات بعد

(۴) دیدن خطوط حاشیه ای

۴۶- جهت مخفی و ظاهر کردن نوار ابزار و دکمه ها در نرم افزار Word از کدام منو استفاده می شود؟

INSERT (۴)

VIEW (۳)

TOOL (۲)

FILE (۱)

۴۷- برای انتخاب چند سطر غیر همجوار در Word از کدام کلید استفاده می شود؟

SPACE (۴)

CTRL (۳)

ALT (۲)

SHIFT (۱)

۴۸- در تنظیمات پاراگراف تو رفتگی ابتدای آن از کدام بخش استفاده می شود؟

Alignment (۴)

Direction (۳)

Indentation (۲)

Spacing (۱)

۴۹- برای اینکه در خانه A5 اعداد به صورت درصد نمایش داده شود آن را از چه نوعی تعریف می کنیم؟

Scientific (۴)

Currency (۳)

Fraction (۲)

Percentage (۱)

۵۰- مطلق سلول B6 کدام است ؟

B\$6 (۴)

B\$6 (۳)

B\$\$6 (۲)

B\$6\$ (۱)

مفاهیم پولی، مالی و خدمات بانکی

۵۱- جمع خالص تعهدات مقامات پولی یا بانک مرکزی با کدام گزینه برابر است؟

(۱) اسکناس و مسکوک

(۲) جمع سپرده بانک ها نزد بانک مرکزی

(۳) عرضه پول

(۴) پول قدرتمند

۵۲- افزایش نسبت اسکناس به سپرده و افزایش نسبت ذخیره به سپرده به ترتیب چه اثری بر حجم پول در گردش دارند؟

(۱) هر دو حجم پول را کاهش میدهند.

(۲) هر دو حجم پول را افزایش میدهند.

۳) اولی حجم پول را کاهش و دومی افزایش می دهد.

۴) اولی حجم پول را افزایش و دومی کاهش میدهد.

۵۳- سریعترین ابزار در دست بانک مرکزی برای کنترل حجم پول کدام است؟ (تهیه شده توسط ایران عرضه)

۱) نرخ تنزیل مجدد ۲) ذخیره قانونی ۳) عملیات بازار باز ۴) سیاست های عرضه

۵۴- کدام گزینه به تورم شدیدتر و مداوم تر منجر می شود؟

۱) افزایش دیگر کالاهای وارداتی مصرفی غیر ضروری

۲) افزایش قیمت کالاهای سرمایه ای وارداتی که سهم ناچیزی در تولید دارند.

۳) افزایش واردات و کاهش صادرات

۴) افزایش قیمت کالاها و خدمات وارداتی مصرفی ضروری

۵۵- کدام یک از ابزارهای زیر برای تضمین پرداخت تعهدات در قراردادهای بانکی یا تجاری، توسط بانک صادر میشود؟

۱) سفته ۲) چک ۳) ضمانت نامه بانکی ۴) تمبر مالیاتی

۵۶- کدام گزینه از عوامل ایجاد محدودیت در مبادلات با کالاهای پولی به شمار نمی رود؟

۱) امکانات نگهداری کالاهای ۲) فساد کالاهای پولی

۳) ارزشگذاری کالاهای پولی ۴) حمل و نقل کالاهای پولی

۵۷- چرا بانکها مبادرت به اعطای وام و سرمایه گذاری می نمایند؟

۱) کاهش هزینه های بانک ۲) کسب درآمد

۳) فراهم آوری نقدینگی مورد نیاز خود ۴) ارائه خدمات به سپرده گذاران

۵۸- هر مؤسسه اعتباری مجاز به افتتاح و نگهداری چند حساب به نام هر شخص محجور میباشد؟ تعداد کل حساب های

قابل افتتاح شبکه بانکی برای اشخاص محجور چند حساب است؟

۱) یک حساب - یک حساب ۲) یک حساب - چهار حساب

۳) دو حساب - چهار حساب ۴) دو حساب - دو حساب

۵۹- در بانک سینا کنترل این نسبت بسیار حائز اهمیت است چون اگر این نسبت حفظ نشود منجر به استقراض از بانک

مرکزی یا بازار بین بانکی می شود. کدامیک از گزینه های زیر بیانگر این نسبت است؟

۱) نسبت منابع به مصارف ۲) نسبت مطالبات به منابع

۳) نسبت مصارف به منابع ۴) نسبت وصولی به مطالبات

۶۰- بانک تمام دیجیتال سینا که دسترسی به تمام خدمات بانکی را بدون محدودیت زمانی و مکانی و از طریق اپلیکیشن

موبایل در بانک سینا برای کاربران فراهم میکند چه نام دارد؟

۱) سیاد ۲) موبایل بانک ۳) سیبانک ۴) بلو بانک

۶۱- کارتی با نام و با قابلیت شارژ مجدد که به درخواست شرکتها و سازمانها جهت ارائه به پرسنل خود در بانک سینا صادر میگردد جایگزین مناسبی برای کمکهای غیر نقدی سازمانها می باشد، چه نام دارد؟ (ایران عرضه)

(۱) کارت نقدی سینا (۲) کارت تنخواه سینا (۳) بن کارت ویژه سینا (۴) کارت هدیه سینا

۶۲- سقف دریافت تسهیلات از محل منابع بانک برای اشخاص حقیقی و حقوقی بر اساس آخرین ابلاغ بانک مرکزی در حال حاضر به ترتیب عبارتست از:

(۱) ۲۰۰ میلیون تومان - ۷۰۰ میلیون تومان (۲) ۴۰۰ میلیون تومان - نامحدود

(۲) ۹۰۰ میلیون تومان - ۴۰۰ میلیون تومان (۴) ۴۰۰ میلیون تومان - ۹۰۰ میلیون تومان

۶۳- کدام یک از موارد ذیل جز منابع بانک برای پرداخت وام قرض الحسنه می باشد؟

(۱) سود انباشته (۲) اقساط وصولی (۳) سپرده قانونی (۴) وجوه نقد خزانه

۶۴- وظیفه اصلی «بانک مرکزی جمهوری اسلامی ایران» چیست؟

(۱) اعطای تسهیلات به عموم مردم (۲) نظارت بر شبکه بانکی و اجرای سیاست های پولی

(۳) رقابت با بانک های تجاری (۴) مدیریت صندوق های قرض الحسنه خود

۶۵- جذب سپرده های برای بانک سود بیشتری دارد.

(۱) قرض الحسنه پس انداز (۲) قرض الحسنه جاری

(۳) بلند مدت (۴) کوتاه مدت

۶۶- اختصاص هرگونه ابزار پرداخت به حساب های سپرده اشخاص ممنوع است.

(۱) کمتر از ۱۳ سال تمام (۲) بیشتر از ۱۳ سال تمام

(۳) کمتر از ۷ سال تمام (۴) بیشتر از ۷ سال تمام

۶۷- کدامیک از کاربردهای عمومی خودپراز نمی باشد؟

(۱) انتقال وجه (۲) پرداخت وجه به مشتریان

(۳) پرداخت قبوض (۴) دریافت وجه از مشتریان

زبان انگلیسی

68- Wear warm clothes. I think it

1) is going to snow 2) is snowing 3) will snow 4) won't snow

69- The repair shop was closed, so I fixed the car

1) mine 2) myself 3) I 4) me

70- Sammy..... for us when we got off the plane.

1) is waiting 2) waited 3) Waits 4) was waiting

- 1) Tourism – nation
- 2) Vacation – country
- 3) Trip – people
- 4) Tourism – sport

Reading Comprehension:

In recent years, digital technology has transformed the way people manage their finances. Instead of visiting a bank branch, customers now perform most financial operations through online and mobile banking. These platforms allow users to transfer money, pay bills, check account balances, and even apply for loans from the comfort of their homes. This convenience saves time and reduces paperwork, making financial services faster and more accessible. However, this change has also brought new challenges. One of the biggest concerns is cybersecurity. As banks move online, hackers try to steal customers' information through fake websites or messages. To protect users, banks have introduced two-factor authentication strong passwords, and regular security updates. Customers must also learn to recognize scams and avoid sharing private details online. Despite the risks, most people prefer digital banking because it is efficient and easy to use. In addition, many banks now combine technology with personal service. They use chatbots and artificial intelligence to answer simple questions instantly, while human advisors handle more complex financial issues. In the future, digital banking will likely continue to expand, offering even smarter tools to help customers manage their money safely.

83- What is the main advantage of online and mobile banking?

- 1) It allows people to earn more money.
- 2) It helps customers manage their finances without visiting a branch.
- 3) It prevents all online crimes.
- 4) It increases the number of bank employees.

84-What is one major problem caused by digital banking?

- 1) Customers cannot save money.
- 2) Hackers may steal personal information.
- 3) Bank branches are becoming more expensive.
- 4) People forget how to use paper forms.

85-What is the purpose of two-factor authentication?

- 1) To make websites look more attractive.

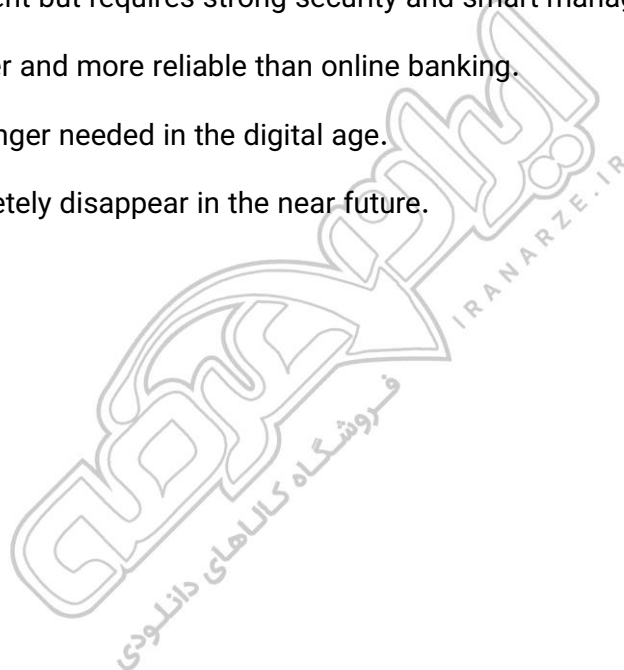
- 2) To help customers choose loans more easily.
- 3) To improve online security.
- 4) To increase banking fees.

86- According to the passage, how are banks using artificial intelligence?

- 1) To print paper bills.
- 2) To answer simple customer questions quickly.
- 3) To replace all human advisors.
- 4) To open new branches in every city.

87- Which of the following best summarizes the passage?

- 1) Digital banking is convenient but requires strong security and smart management.
- 2) Traditional banking is safer and more reliable than online banking.
- 3) Bank employees are no longer needed in the digital age.
- 4) Online banking will completely disappear in the near future.



معنی کلمات «منحوس - مذموم - معضوب» به ترتیب کدام است؟

- (۱) بدکار - بیسته - خشمگین
(۲) ناپسند - زشتی - خشن
(۳) نایمون - زنت - خشم گرفته
(۴) بدخوی - بهره‌دوری - غضب کرده

۲- در کدام بیت، معنی واژه‌ی مشخص شده، به درستی ذکر شده است؟

- (۱) بیچارگی ورا چو دینند / در چاره‌گری زبان کشیدند: سکوت کردند
(۲) دمی آب خورن پس از بدنگال / به از عمر هفتاد هشتاد سال: بدخلق
(۳) اگر چه در طلبت هیعتان باد شمال / به گرد سرو خرامان قامتت نرسیدم: همراه
(۴) هر چه در این دایره بیرون توست / گام سعایت زده در خون توست: سعی و تلاش

۳- معنای چند واژه در مقابل آن نادرست آمده است؟

- (محوطه: صحن)، (نیلی: کبود)، (فتح: گشودن)، (جوس: طبل)، (وادی: سرزمین)
(۱) صفر (۲) یک (۳) دو (۴) سه

۴- در کدام عبارت، «غلط املایی» می‌توان یافت؟

- (۱) پس از گشت و گذار، خسته از نشسته خوب و پاک آن «اسرا» در بستر خویش به خواب رفتم.
(۲) آن شب ماه با تالو بر تکویش از راه رسید و گل‌های الماس شکفتند و قندیل زیبای بروین سر زد.
(۳) گل‌های رنگین شعر و الهام در سموم سرد این عقل بی درد یزمد و صفای اهوایی درونم را بر از خدا کرد.
(۴) در آن هنگام که بهار حیاط علمی و اجتماعی اش فرارسیده، بود ناگهان منقلب شد و چشمها را منتظر گذاشت.

۵- در کدام گروه کلمه «غلط املایی» یافت می‌شود؟

- (۱) بذله و لطیفه، محضوظ و بهره ور
(۲) جسیم و خوش اندام، مستغرق و مجذوب
(۳) حشم و خدمتکاران، تمط و طریقه
(۴) قسیم و صاحب جمال، حیات و مemat

۶- در متن زیر املای کدام واژه نادرست است؟

- «چندان که این سخن به سمع او رسید و از خرد و جمال و عقل و صلاح او براندیشید رنجور گشت و شرم داشت که اثر تردد ظاهر مجرد و نغز و ابرامی به یکدیگر متصل از خود فراماید و به تانی او واتی بود که تاخیری به جای آورده باشد و بی مراجعت کاری نگزارده.»
(۱) صلاح (۲) نغز (۳) نگزارده (۴) تانی

۷- کلمات کدامیک از گزینه‌های زیر را نمی‌توان کاهش داد بدون آن که معنای آن عوض شود؟

- (۱) مورد استفاده قرار داده است.
(۲) مورد ستایش قرار می‌دهد.
(۳) مورد تصویب قرار داده است.
(۴) نشان داده است.

۸- در عبارت «او مثل این که فنرش در رفته باشد دست دراز کرد.» چه آرایه‌ای به کار رفته است؟

- (۱) استعاره (۲) حس آمیزی (۳) کنایه (۴) ایهام

۹- «صاحب گوهر» در عبارت «کافر را غلامی بود مسلمان، صاحب گوهر.» به چه معناست؟

- (۱) مطیع و سر به زیر (۲) اصیل و نژاده
(۳) قوی و بهلولان (۴) بول‌دار و گروتمند

۱۰- مفهوم عبارت زیر یادآور کدام بیت است؟

- «از بیم عقرب جراره دم‌موگرانی قرن بیستم، ناچار شده به مار غاشیه حکومت سرهنگ‌ها پناه ببرد.»
(۱) در خم زلف تو آویخت دل از چاه زنج
(۲) در عشق تو پای کس ندارد جز من
(۳) معنی فرمانروایی نیست جز اجرای حکم
(۴) از ما طلب یأس کن ای خواجه نه امید
اه گز چاه بیرون آمد و در دام افتاد
در شوره کسی تخم نکارد جز من
در سرای خویش هر موری سلیمانی کند
کاین جنس متاعی است که در کشور ما نیست

مهرم کلی بیان شده هر بیت، در کدام گزینه صحیح است؟

- ۱) به دست آهن تفته کردن خمیر
 ۲) داشت دو گوش و یک زبان، ز آغاز
 ۳) از گفته ناکرده و بیهوده چه حاصل
 ۴) آن شاخ که سر بر کشید و میوه نیارد
- (خودداری از کار سخت)
 (زیاد سخن گفتن)
 (دو صد گفته چون نیم کردار نیست)
 (فرجام تلاش و کوشش)
- به از دست بر سینه، پیش امیر
 یعنی که دو بشنو و یکی بیش مگوی
 کردار نکو کن، که نه سودی ست ز گفتار
 فرجام، به جز سوختن نیست سزاوار

۱۸- در کدام گزینه غلط نگارشی دیده می شود؟

- ۱) انشایی می ساخت و نمره بیست همراه با آفرین و احسن تحویل می گرفت.
 ۲) املاهای واژه‌هایی چون هزارها و سده‌ها به همین شکلی درست است.
 ۳) تمام فصل‌ها و بخش‌های این کتاب مشمول طرح بودجه‌بندی کتب هستند.
 ۴) اخترشناسی به مطالعه اجرام آسمانی می‌پردازد و همچنین به تأثیر بر اجرام آسمانی دیگر.

۱۹- در جمله «پلیس آن کشور بار دیگر در یک یورش وسیع و گسترده‌ای، ده‌ها تن مسلمان را بازداشت کرد.» کلمات همه گزینه‌ها به جز

کدام گزینه زاید یا تکراری است؟

- ۱) آن
 ۲) یک
 ۳) تن
 ۴) وسیع

۲۰- کدام عبارت نیاز به ویرایش دارد؟

- ۱) گواه صدق ادعای ماه سخن یکی از استادان عقل‌گرا، درباره دین است.
 ۲) به خلاف تصور برخی خوانندگان، ملاک‌ها و معیارهای نقد ادبی بی‌اعتبار نشده‌اند.
 ۳) انجام دادن فرایض دینی، پاداش معنوی و ترکشان موجب کیفر اخروی خواهد بود.
 ۴) عقل‌گرایی پدیده‌ای است که عامل عمده آن، ضعف مسیحیت در پاسخ‌گویی به نیازهای حقوقی بشر بوده است.

۲۱- اگر روابط رویرو بین اعداد برقرار باشد به جای علامت سوال چه عددی باید قرار بگیرد؟



- ۳۴ (۱)
 ۳۲ (۲)
 ۲۸ (۳)
 ۲۶ (۴)

۲۲- در شکل رویه رو به جای علامت سوال کدام عدد قرار می‌گیرد؟

- ۴۵ (۲)
 ۸۱ (۴)

- ۶۹ (۱)
 ۷۲ (۳)

۲۳- اگر امروز دوشنبه باشد، ۵۹ روز دیگر معادل با چه روزی از هفته خواهد بود؟

- چهارشنبه (۳)

- سه شنبه (۲)

- دوشنبه (۱)

- پنج شنبه (۴)

۲۴- آرش پسر خواهر پدر آراد است. احمد پسر دنیاو دنیا مادر بزرگ آراد است. حمید پدر تینا و پدر بزرگ آرش است. دنیا همسر حمید است.

آرش چگونه با دنیا مرتبط است؟

- پسر (۳)

- برادرزاده (۲)

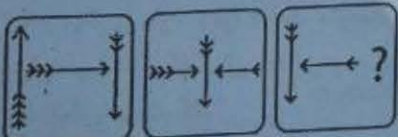
- خواهرزاده (۱)

- نوه (۴)

۲۵- نسبت CPU و کامپیوتر مانند تمام گزینه های زیر است به جز:

- ۱) سرآشپز و آشپزخانه
 ۲) کارگردان و فیلم
 ۳) مهماندار و هواپیما
 ۴) مغز و انسان

۲۶- کدام گزینه به جای علامت سوال قرار بگیرد تا الگوی شکلی زیر کامل گردد؟



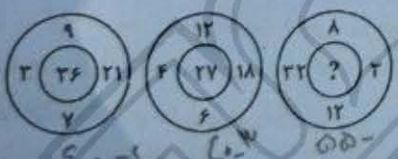
- ↑ (۳)

- (۲)

- ↓ (۱)

- ↕ (۴)

۳۱
 $32=11$
 $38=19$
 $24=7$
 $74=?$



*** توجه: متن زیر را به دقت بخوانید و با توجه به اطلاعات داده شده، به سؤالات ۲۷ تا ۳۲ پاسخ دهید.

یک گروه سه نفره از دانش‌آموزان باید اشعار را در کلاس ادبیات بخوانند. هر یک از سه دانش‌آموز - فرهاد، گرشا و هادی - حداقل یکی از

چهار شعر شعری حافظ، سعدی، مولوی و فردوسی را با شرایط زیر خواهند خواند:

شرط اول) هیچ دانش‌آموزی هر دو شعر مولوی و فردوسی را نمی‌خواند.

شرط دوم) هادی شعرهای بیشتری نسبت به گرشا و فرهاد می‌خواند.

شرط سوم) هر دانش‌آموزی که شعر سعدی را می‌خواند، شعر حافظ را نیز می‌خواند.

شرط چهارم) هر شعری که توسط فرهاد خوانده شود، توسط گرشا نیز خوانده می‌شود.

۲۷- کدام یک از موارد زیر می‌تواند فهرستی کامل و دقیق از شعرهایی باشد که دانش‌آموزان خوانده‌اند؟

۱) فرهاد: سعدی، حافظ / گرشا: سعدی، حافظ، مولوی / هادی: حافظ، مولوی

۲) فرهاد: حافظ / گرشا: حافظ، سعدی / هادی: مولوی، فردوسی

۳) فرهاد: مولوی / گرشا: مولوی / هادی: حافظ، سعدی

۴) فرهاد: حافظ / گرشا: حافظ / هادی: سعدی، مولوی

۲۸- کدام یک از موارد زیر باید درست باشد؟

۱) گرشا شعرهای بیشتری نسبت به فرهاد می‌خواند.

۲) اگر فرهاد سعدی را بخواند، گرشا حافظ را می‌خواند.

۳) اگر گرشا سعدی را بخواند، فرهاد نیز سعدی را می‌خواند.

۴) اگر هادی مولوی را بخواند، فرهاد و گرشا آن را نمی‌خوانند.

۲۹- اگر هادی شعرهای مولوی یا فردوسی را نخواند، آنگاه همه موارد زیر می‌تواند درست باشد به جز:

۱) فرهاد فردوسی را می‌خواند.

۲) گرشا مولوی را می‌خواند.

۳) هر سه دانش‌آموز حافظ را می‌خوانند.

۴) دقیقاً دو دانش‌آموز شعر سعدی را می‌خوانند.

۳۰- کدام یک از موارد زیر باید درست باشد؟

۱) فرهاد نمی‌تواند شعر سعدی را بخواند مگر اینکه هادی بخواند.

۲) فرهاد و گرشا همیشه حداقل یک شعری را می‌خوانند که هادی هم می‌خواند.

۳) هادی فقط زمانی می‌تواند شعر فردوسی را بخواند که گرشا آن را نخواند.

۴) شعر فردوسی حداقل توسط دو دانش‌آموز خوانده می‌شود.

۳۱- اگر هر شعر حداقل توسط یک دانش‌آموز خوانده شود، هر یک از موارد زیر می‌تواند درست باشد به جز:

۱) حداقل یک شعر توسط هر سه دانش‌آموز خوانده می‌شود.

۲) فرهاد دقیقاً همان شعرهایی را می‌خواند که گرشا می‌خواند.

۳) گرشا بیشتر از فرهاد شعر می‌خواند.

۴) شعر سعدی توسط یا فرهاد یا گرشا خوانده می‌شود.

۳۲- چند روش مختلف وجود دارد که شعرها به گونه‌ای تخصیص داده شوند که هر شعر حداقل توسط یک دانش‌آموز خوانده شود؟

۱) ۵

۲) ۶

۳) ۷

۴) ۸

*** توجه: برای پاسخگویی به سؤال های ۳۳ و ۳۴ لازم است موقعیتی را که در هر سؤال مطرح شده، مورد تجزیه و تحلیل قرار دهید.

و سپس گزینه‌ای را که فکر می‌کنید پاسخ مناسب‌تر و کامل‌تری برای آن سؤال است، انتخاب کنید.

۳۳- "صادرات و واردات، تراز تجاری رو به رشد و مطلوب، سرمایه‌گذاری‌ها و موجودی بانک‌ها شاخصی برای رفاه ملی نیستند. تا آغاز جنگ

جهانی دوم، صادرات انگلیس به طور قابل توجهی بیشتر از آنچه امروز است، بود. با این حال، انگلستان امروز رفاه ملی بیشتری نسبت به

هر زمان دیگری دارد. زیرا درآمد متوسط انگلیسیها، که به عنوان کارگران مزرعه و کارخانه، کارمندان، پلیسها، مغازه‌داران کوچک و

دستیاران فروشگاه، کارگران خانگی و سایر کارکنان با دستمزد پایین کار میکنند، افزایش یافته است." این متن به بهترین وجه از این

گفته پشتیبانی می‌کند که:

۱) تجارت انگلیس از زمان جنگ جهانی دوم به طور مداوم افزایش یافته است.

۲) اقتصاد یک کشور با افزایش صادرات تقویت می‌شود.

۳) تراز تجاری یک کشور معیار اصلی تعیین رفاه اقتصادی آن است.

۴) استاندارد اقتصادی یک کشور را می‌توان به بهترین وجه با درآمد سرانه قضاوت کرد.

تعمیر شناس اخلاقی: دیدگاه سستی را که معتقد است مسئولیت اخلاقی تنها باید بر اساس عواملی که در کنترل فرد است تعیین به چالش می‌کشد. شناس اخلاقی زمانی رخ میدهد که جنبه‌های اخلاقی مهم اعمال یک فرد یا پیامدهای آن به عواملی که خارج از کنترل هستند بستگی داشته باشد. به عنوان مثال، یک راننده خواب‌آلود که عابری را به قتل می‌رساند نسبت به راننده‌ای که به همان اندازه بدون هوشیاری رانندگی میکند اما بدون حادثه به خانه میرسد معمولاً سختگیرانه‌تر قضاوت میشود. این مسأله سوالات پیچیده‌ای در مورد عدالت و سازگاری قضاوت‌های اخلاقی ما مطرح میکند. کدام یک از جملات زیر، اگر درست باشد، بیشترین تضعیف را برای این استدلال در پی خواهد داشت؟

- (۱) قضاوت‌های اخلاقی باید عمدتاً بر نیت فرد تمرکز کنند.
 (۲) پیامدهای یک عمل همیشه برای ارزیابی اخلاقی مهم هستند.
 (۳) افراد باید تنها نسبت به نتایجی که معقولانه میتوانند پیش‌بینی و کنترل کنند مسئول باشند.
 (۴) نظام‌های حقوقی به طور مداوم بین پیامدهای عمدی و غیرعمدی تمایز قائل میشوند.
- ۳۵- در یک کلاس ۲۰ دانش‌آموز وجود دارد که ۱۵ نفر آنها پسر و ۵ نفر دختر هستند. در امتحان نهایی، ۵ پسر و ۴ دختر نمره ۲۰ گرفتند. اگر یک دانش‌آموز به طور تصادفی از کلاس انتخاب شود، احتمال انتخاب یک دختر یا یک دانش‌آموز با نمره ۲۰ چقدر است؟

- (۱) $\frac{2}{3}$ (۲) $\frac{3}{10}$ (۳) $\frac{1}{2}$ (۴) $\frac{1}{4}$

۳۶- چهار کشور ایران، اسپانیا، پرتغال و کاترول در یک گروه رقابت‌های جام جهانی قرار گرفته‌اند. چند بازی باید انجام شود تا تمام کشورها با یکدیگر، یکبار بازی کنند؟

- (۱) ۲ (۲) ۵ (۳) ۶ (۴) ۷

۳۷- در ساحل یک دریا هزینه اجاره یک ساعت بالون تفریحی ۲۰۰ هزار تومان بیشتر از هزینه اجاره یک ساعت قایق است. اگر یک نفر بالون را به مدت ۳ ساعت و قایق را به مدت ۵ ساعت اجاره کند و جمع کل مبلغ پرداختی آن ۲ میلیون تومان باشد، هزینه اجاره یک ساعت بالون چقدر است؟

- (۱) ۳۷۵ هزار تومان (۲) ۱۷۵ هزار تومان (۳) ۲۲۵ هزار تومان (۴) ۳۲۵ هزار تومان

۳۸- عددی از دو رقم تشکیل شده است که مجموع آنها ۱۱ است. اگر ۲۷ به این عدد اضافه شود، جای ارقام عوض می‌شود. آن عدد چیست؟

- (۱) ۳۷ (۲) ۴۷ (۳) ۶۵ (۴) ۸۳

۳۹- اگر تمام اعداد ۱ تا ۱۰۰ را بنویسید، چند بار عدد ۳ را می‌نویسید؟

- (۱) ۱۰ (۲) ۱۱ (۳) ۲۰ (۴) ۲۱

۴۰- یک مخزن مکعبی ۲۷ متر مکعب حجم دارد. طول آن را ۳ برابر می‌کنیم، عرض آن را ۲ برابر و ارتفاع آن را ۴ برابر. حجم مخزن جدید چند متر مکعب خواهد بود؟

- (۱) ۷۲ (۲) ۲۸۶ (۳) ۶۴۸ (۴) ۸۶۴

۴۱- برای ارسال رونوشت پست الکترونیک به شخص دیگر به گونه‌ای که سایر افراد متوجه وجود آن نشوند، آدرس آن در کدام بخش نوشته می‌شود؟

- (۱) TO (۲) BCC (۳) CC (۴) SEND

۴۲- کدام گزینه فهرستی از سایت‌هایی که اخیراً مشاهده شده است را نمایش می‌دهد؟

- (۱) Home (۲) Favorites (۳) Forward (۴) History

۴۳- دکمه Start روی کدام نوار قرار دارد؟

- (۱) Scroll Bar (۲) Tool Bar (۳) Task Bar (۴) Status Bar

۴۴- برنامه‌های در حال اجرا در محیط ویندوز در کدام قسمت نشان داده می‌شوند؟

- (۱) System tray bar (۲) Task manager (۳) Toolbar (۴) Start

۴۵- از کدام دستور برای ایجاد یادداشت اضافی در سلول استفاده می‌شود؟

- (۱) Fill (۲) Comment (۳) hand (۴) Margin

جمع خالص تعهدات مقامات پولی یا بانک مرکزی با کدام گزینه برابر است؟

- (۱) اسکناس و مسکوک
- (۲) جمع سپرده بانکها نزد بانک مرکزی
- (۳) عرضه پول
- (۴) پول قدرتمند

افزایش نسبت اسکناس به سپرده و افزایش نسبت ذخیره به سپرده به ترتیب چه اثری بر حجم پول در گردش دارند؟

- (۱) هر دو حجم پول را کاهش می دهند.
- (۲) هر دو حجم پول را افزایش می دهند.
- (۳) اولی حجم پول را کاهش و دومی افزایش می دهد.
- (۴) اولی حجم پول را افزایش و دومی کاهش می دهد.

۶- سریعترین ابزار در دست بانک مرکزی برای کنترل حجم پول کدام است؟

- (۱) نرخ تنزیل مجدد
- (۲) ذخیره قانونی
- (۳) عملیات بازار باز
- (۴) سیاستهای عرضه

۶۵- کدام گزینه به نورم شدیدتر و مداومتر منجر می شود؟

- (۱) افزایش قیمت کالاهای وارداتی مصرفی غیر ضروری
- (۲) افزایش قیمت کالاهای سرمایه‌ای وارداتی که سهم ناچیزی در تولید دارند
- (۳) افزایش واردات و کاهش صادرات
- (۴) افزایش قیمت کالاها و خدمات وارداتی مصرفی ضروری

۶۶- کدام یک از ابزارهای زیر، برای تسهیل پرداخت تعهدات در قراردادهای بانکی یا تجاری، توسط بانک صادر می شود؟

- (۱) سفته
- (۲) چک
- (۳) ضمانت‌نامه بانکی
- (۴) تمبر مالیاتی

۶۷- کدام گزینه از عوامل ایجاد کننده محدودیت در مبادلات با کالاهای پولی به شمار نمی رود؟

- (۱) اسکناس نگهداری کالاهای پولی
- (۲) ارزشگذاری کالاهای پولی
- (۳) فساد کالاهای پولی
- (۴) حمل و نقل کالاهای پولی

۶۸- چرا بانکها مبادرت به اعطای وام و سرمایه گذاری می نمایند؟

- (۱) کاهش هزینه های بانک
- (۲) فراهم آوری نقدینگی مورد نیاز خود
- (۳) کسب درآمد
- (۴) ارائه خدمات به سپرده گذاران

۶۹- هر مؤسسه اعتباری مجاز به افتتاح و نگهداری چند حساب به نام هر شخص مجبور میباشد؟ تعداد کل حساب های قابل

- شبکه بانکی برای اشخاص مجبور چند حساب است؟
- (۱) یک حساب - یک حساب (۲) یک حساب - چهار حساب
- (۳) دو حساب - چهار حساب
- (۴) دو حساب - دو حساب

۷۰- در بانک سینا کنترل این نسبت بسیار حائز اهمیت است چون اگر این نسبت حفظ نشود منجر به استقرار از بانک مرکزی یا بازار

- بانکی می شود. کدامیک از گزینه های زیر بیانگر این نسبت است؟
- (۱) نسبت منابع به مصارف (۲) نسبت مطالبات به منابع
- (۳) نسبت مصارف به منابع
- (۴) نسبت وصولی به مطالبات

۷۱- بانک تمام دیجیتال سینا که دسترسی به تمام خدمات بانکی را بدون محدودیت زمانی و مکانی و از طریق اپلیکیشن موبایل در بانک

- سینا برای کاربران فراهم می کند، چه نام دارد؟
- (۱) سینا
- (۲) موبایل بانک
- (۳) سینا
- (۴) بلو بانک

۷۲- کارتی با نام و با قابلیت شارژ مجدد که به درخواست شرکتها و سازمانها جهت ارائه به پرسنل خود در بانک سینا صادر می گردد

- جایگزین مناسبی برای کمکهای غیرنقدی سازمانها می باشد، چه نام دارد؟
- (۱) کارت نقدی سینا
- (۲) کارت تنخواه سینا
- (۳) پن کارت ویژه سینا
- (۴) کارت هدیه سینا

۷۳- سقف دریافت تسهیلات از محل منابع بانک برای اشخاص حقیقی و حقوقی بر اساس آخرین ابلاغ بانک مرکزی در حال حاضر، به ترتیب

عبارتست از :

- (۱) ۲۰۰ میلیون تومان - ۷۰۰ میلیون تومان
- (۲) ۴۰۰ میلیون تومان - نامحدود
- (۳) ۹۰۰ میلیون تومان - ۴۰۰ میلیون تومان
- (۴) ۴۰۰ میلیون تومان - ۹۰۰ میلیون تومان

۷۴- کدام یک از موارد ذیل جز منابع بانک برای پرداخت وام قرض الحسنه می باشد؟

- (۱) سود انباشته
- (۲) اقساط وصولی
- (۳) سپرده قانونی
- (۴) وجوه نقد خزانه

- 81- Wear warm clothes. I think it
1) is going to snow
2) is snowing
3) will snow
4) won't snow
- 82- The repair shop was closed, so I fixed the car
1) mine
2) myself
3) I
4) me
- 83- Sammy for us when we got off the plane.
1) is waiting
2) waited
3) waits
4) was waiting
- 84- The man is wearing a Jacket.
1) big black leather
2) black big leather
3) red modern leather
4) red leather modern
- 85- There's nothing than going out in the cold with wet hair.
1) clear
2) polar
3) worse
4) frozen
- 86- Although the government can not control the sharp increase in divorce rate, the president insists on his programs against the crisis.
1) reporting
2) increasing
3) identifying
4) defending
- 87- Because of conditions, the hikers decided to give up trying to climb the mountain.
1) vague
2) ungainly
3) adverse
4) vigorous
- 88- Gemsbok national park is full of and is very popular with visitors.
1) earache
2) role
3) martyrs
4) wildlife
- 89- There is no doubt that the front runner in this presidential race is James Dott, but Wallis Graham is a potential horse.
1) sitting
2) running
3) white
4) dark
- 90- The regulatory authority's decision to the newly proposed banking laws was welcomed by financial institutions, as it provided clearer guidelines for compliance.
1) defer
2) revoke
3) approve
4) undermine
- 91- It's always a good idea to do some before you buy a house.
1) success
2) knowledge
3) experiment
4) research

92- My throat hurts, and I have a fever. Can I have some cold

- 1) science 2) organs 3) pictures 4) medicine

93- Edison did a lot experiments and at last the first light bulb.

- 1) gave up 2) invented 3) succeeded 4) solved

94- Maryam: Do you like to your organs in brain death?

Farhad: Why not?! We can save many lives by doing so.

- 1) defend 2) donate 3) transfer 4) carry

95- is traveling for entertainment or learning about the culture of a

- 1) Tourism - nation 2) Vacation - country
3) Trip - people 4) Tourism - sport

Reading Comprehension:

In recent years, digital technology has transformed the way people manage their finances. Instead of visiting a bank branch, customers now perform most financial operations through online and mobile banking. These platforms allow users to transfer money, pay bills, check account balances, and even apply for loans from the comfort of their homes. This convenience saves time and reduces paperwork, making financial services faster and more accessible. However, this change has also brought new challenges. One of the biggest concerns is cybersecurity. As banks move online, hackers try to steal customers' information through fake websites or messages. To protect users, banks have introduced two-factor authentication, strong passwords, and regular security updates. Customers must also learn to recognize scams and avoid sharing private details online. Despite the risks, most people prefer digital banking because it is efficient and easy to use. In addition, many banks now combine technology with personal service. They use chatbots and artificial intelligence to answer simple questions instantly, while human advisors handle more complex financial issues. In the future, digital banking will likely continue to expand, offering even smarter tools to help customers manage their money safely.

96- What is the main advantage of online and mobile banking?

- 1) It allows people to earn more money.
2) It helps customers manage their finances without visiting a branch.
3) It prevents all online crimes.
4) It increases the number of bank employees.

97- What is one major problem caused by digital banking?

- 1) Customers cannot save money.
2) Hackers may steal personal information.
3) Bank branches are becoming more expensive.
4) People forget how to use paper forms.

98- What is the purpose of two-factor authentication?

- 1) To make websites look more attractive. 2) To help customers choose loans more easily.
3) To improve online security. 4) To increase banking fees.

99- According to the passage, how are banks using artificial intelligence?

- 1) To print paper bills. 2) To answer simple customer questions quickly.
3) To replace all human advisors. 4) To open new branches in every city.

100- Which of the following best summarizes the passage?

- 1) Digital banking is convenient but requires strong security and smart management.
2) Traditional banking is safer and more reliable than online banking.
3) Bank employees are no longer needed in the digital age.
4) Online banking will completely disappear in the near future.

سوال	پاسخ	سوال	پاسخ	سوال	پاسخ	سوال	پاسخ	سوال	پاسخ	سوال	پاسخ
۱	۳	۲۴	۴	۴۷	۳	۷۰	۴				
۲	۳	۲۵	۳	۴۸	۲	۷۱	۱				
۳	۳	۲۶	۳	۴۹	۱	۷۲	۳				
۴	۴	۲۷	۴	۵۰	۱	۷۳	۴				
۵	-	۲۸	۱	۵۱	۴	۷۴	۳				
۶	۲	۲۹	۳	۵۲	۱	۷۵	۴				
۷	۴	۳۰	۴	۵۳	۲	۷۶	۴				
۸	۳	۳۱	۴	۵۴	۴	۷۷	۳				
۹	۲	۳۲	۱	۵۵	۳	۷۸	۴				
۱۰	۱	۳۳	۱	۵۶	۳	۷۹	۴				
۱۱	۱	۳۴	۳	۵۷	۲	۸۰	۲				
۱۲	۴	۳۵	۱	۵۸	۳	۸۱	۲				
۱۳	۲	۳۶	۲	۵۹	۳	۸۲	۱				
۱۴	۱	۳۷	۳	۶۰	۳	۸۳	۲				
۱۵	۳	۳۸	۳	۶۱	۲	۸۴	۲				
۱۶	۴	۳۹	۲	۶۲	۴	۸۵	۳				
۱۷	۴	۴۰	۱	۶۳	۲	۸۶	۲				
۱۸	۳	۴۱	۳	۶۴	۲	۸۷	۱				
۱۹	۲	۴۲	۲	۶۵	۳						
۲۰	۱	۴۳	۲	۶۶	۳						
۲۱	۴	۴۴	۲	۶۷	۴						
۲۲	۴	۴۵	۴	۶۸	۱						
۲۳	۳	۴۶	۱	۶۹	۲						